



ANADOLU İMAM HATİP LİSESİ
İMAM HATİP ORTAOKULU
5. SINIF GİRİŞ SINAVI
2025

Adı Soyadı :

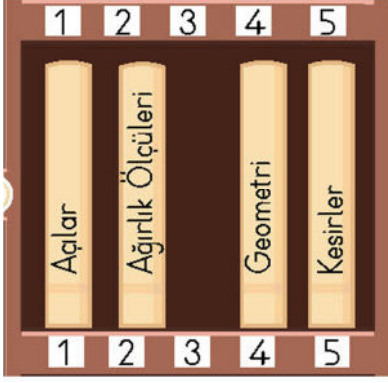
Okulu :

T.C. Kimlik No :

ALANLAR	SORU SAYISI	TOPLAM SORU SAYISI	SÜRE
TÜRKÇE	15	70 SORU	100 DAKİKA
MATEMATİK	15		
FEN BİLİMLERİ	15		
SOSYAL BİLGİLER	10		
DİN KÜL.AH.BİL.	10		
YABANCI DİL	5		

1. Sınav süresince gözetmenlerin uyarılarına dikkat ediniz.
 2. Sınav süresince kitap, sözlük veya elektronik araçları yanınızda bulundurmuyunuz.
 3. Cevap kağıdınızdaki bilgilerin doğruluğunu kontrol ediniz.
 4. Kitapçık üzerindeki ad-soyad, sınıf-no, okul bilgileriniz kodlamayı unutmayınız.
 5. Cevap kağıdınız üzerinde bulunan kitapçık türünü doğru kodladığınızdan emin olunuz.
 6. Sınavın değerlendirilmesi optik okuma araçları ve elektronik ortamda yapılacağından ikili veya toplu kopya çekilmesi tespit edilmektedir. Bu gibi durumlarda sınavınız geçersiz sayılacaktır.
 7. Cevap kağıdı üzerinde kurşun kalemle işaretleme yapınız. Değiştirmek istediğiniz cevabınızı yumuşak silgi ile iz bırakmadan siliniz. Cevap kağıdınızı buruşturmayınız ve katlamayınız.
 8. Soru kitapçığınızı sınav başlamadan kontrol ediniz. Eksik sayfa varsa değiştirilmesini isteyiniz.
 9. Sınav bitiminde cevap kağıdınızı teslim etmeyi unutmayınız. Her sorunun bir doğru cevabı bulunmaktadır.
 10. Başlayınız denilmeden kitapçığınızı açmayınız.
 11. Dört yanlış cevap bir doğru cevabı götürmektedir.
 12. **ÖNEMLİ: TC Kimlik numaranızı cevap formu üzerindeki alana dikkatli kodlayınız.**
- © Her hakkı saklıdır. İzinsiz kopyalanamaz, alıntı yapılamaz, yayımlanamaz.

1.



Görsel alfabetik isim sırasına göre dizilmiş kitaplardan oluşan bir kitaplık rafına aittir. Bu raftaki 3. kitap daha önceden alınmış ve yerine konulacaktır.

Bu bilgilere göre 3. sıradaki kitabın adı aşağıdakilerden hangisi olmalıdır?

- A) Üslü sayılarla işlem
- B) Pay ve payda
- C) Toplama ve çıkarma işlemi
- D) Çarpma ve bölme işlemi

2. "sökülmek" sözcüğü aşağıdaki cümlelerden hangisinde "zorla almak, gasp etmek" anlamında kullanılmıştır?

- A) Yolumuzu kesip "sökülün paraları" diye bağırınca çok korktuk.
- B) Ağacın yerinden sökülmesi için büyük bir iş makinesi çağırdık.
- C) Tam konuşma yapacakken elbisemin dikişleri söküldü.
- D) Yerinden sökülen demirleri inceliyoruz.

3. Okuldaki öğrenciler ders çalışıyordu. Tümünü sınavın bir an önce başlamasını istiyordu. Son dakikaya kadar beklediler. Kesinlikle çok heyecanlılardı.

Metinde altı çizili kelimelerden birinin yerine aşağıdakilerden hangisi getirilemez?

- A) Hepsi
- B) Çabucak
- C) Mutlaka
- D) Aslında

4. Spor, insanı hem bedenen hem de ruhen zinde tutar. Ancak spor yapmanın dikkat edilmesi gereken kuralları vardır. Bunların başında kişinin hangi çağda hangi sporun kendine uygun olduğunu bilmesi gerekir. Uzmanlar, gençlik dönemlerinde yapılan spor çeşidiyle ileri dönemlerde yapılabilecek spor çeşidinin farklı olduğunu söylüyor. Örneğin gençler daha ağır sporlar yapabilirken yaşlılar için yürümenin daha doğru olduğu kabul ediliyor.

Verilen metnin başına getirilebilecek en uygun başlık aşağıdakilerden hangisidir?

- A) Spor Yapmanın Yararları
- B) Ağır Spor Dalları
- C) Uzman Eşliğinde Spor
- D) Yaşa Uygun Spor

5. İçinde dört raf bulunan bir buzdolabında en alttaki raf 1. raf olarak isimlendirilmiştir. Diğer raflar yukarıya doğru sıralanarak numaralandırılmıştır. Bu dolapta yer alan bazı ürünlerin hangi rafta olduğu ile ilgili bilgiler şöyledir:

- Sebze yemeği en alt rafta yer almamaktadır.
- Peynir kutusunun bulunduğu rafın üstünde ve altındaki raflarda başka ürünler bulunmaktadır.
- Peynir kutusu ile sebze yemeğinin arasında yalnızca bir raf var ve onda da tavuk bulunmaktadır.
- Tereyağı en üst rafta yer almamaktadır.

Buna göre ürünlerin buzdolabındaki bulunduğu katlarla ilgili aşağıdakilerden hangisi doğrudur?

	En alt 1. raf	2. raf	3. raf	En üst 4. raf
A)	Peynir	Sebze yemeği	Tereyağı	Tavuk
B)	Tereyağı	Peynir	Tavuk	Sebze yemeği
C)	Sebze yemeği	Tavuk	Peynir	Tereyağı
D)	Tereyağı	Tavuk	Peynir	Sebze yemeği

6.



Bu görsel aşağıdakilerden hangisine dikkat çekme amacıyla hazırlanmıştır?

- A) Toplumsal Kurallara Uyma
- B) Manevi Gelişim
- C) Sağlıklı Beslenme
- D) Teknoloji Üretimine Teşvik

7. Dikkat() Herkes ayağa kalksın() Komutan geliyor() Bugün yapılması gereken işler şunlar() Yaprakların toplanması() bahçe duvarının boyanması ve yemekhaneye un çuvallarının taşınması...

Bu metinde parantez içlerinden herhangi birine aşağıdaki noktalama işaretlerinden hangisi yazılamaz?

- A) ! - Ünlem işareti
- B) ? - Soru işareti
- C) : - İki nokta üst üste
- D) , - Virgül

8. Herkes toplumda bir şeylerden şikâyet ediyor ancak iş onu düzeltmeye geldiğinde başta kendisi çaba göstermiyor. Oysa bir toplumun düzelmesi, önce o toplumu oluşturan kimselerin kendini düzeltmesi ile olur. Herkes başkasına bakarsa kimse kendi hatasını görmez. O zaman da ne hatalar biter ne de toplum düzelir.

Metinde toplumun düzelmesi aşağıdakilerden hangisine bağlanmıştır?

- A) Kendi hatalarını görmek
- B) Şikâyet etmeyi bırakmak
- C) Kötülükleri görmezden gelmek
- D) Başkalarını sürekli uyarmak

9. Yarın için bir piknik organize etmiştik. Ancak sanırım erteleyeceğiz. Çünkü

"Çünkü" sözcüğü göz önüne alındığında üç nokta ile belirtilen yere aşağıdakilerden hangisi getirilmelidir?

- A) Hava durumu raporlarında aşırı yağış olacağı görünüyor.
- B) Her şey ayarlandı ve yolunda gitmeyen bir şey yok.
- C) Tüm katılımcılar programın kendileri için uygun olduğunu bildirdi.
- D) Araçlar ayarlandı, yola çıkılmaya hazır bekleniyor.

10.: Gösterişle aldatmak, bir şeyi iyi gibi göstermek, kandırmak, yanıltmak.

Noktalı yere yazılması gereken deyim aşağıdakilerden hangisinde kullanılmıştır?

- A) Birden parladı, gözdağı verircesine kızdı ve bağırdı
- B) Çok çalışıp ustasının gözüne girmeye çalışıyordu.
- C) Gözünün ucuyla bakıp çaktırmadan kontrol ediyordu.
- D) Avukat o kadar etkileyici konuşuyordu ki herkesin gözünü boyamayı başardı.

11. (1) Örneğin kaynakları zorla alınmış toplumlarda baş gösteren yoksulluk onların göç etmesine zemin hazırlar. (2) Bu göç yolunda pek çok kimse canını ve malını tehlikeye atmaktadır. (3) Bazı araştırmalara göre dünya üzerindeki kaynaklar eşit dağıtıldığında tüm insanlara defalarca yeterli miktardadır. (4) Ancak bu kaynakların bazı ülkeler tarafından zorla ele geçirilmesi pek çok soruna ve haksızlığa yol açmaktadır.

Anlam akışına göre numaralandırılmış cümlelerin hangisi bu metnin giriş bölümü olmalıdır?

- A) 1.
- B) 2.
- C) 3.
- D) 4.

12. İslam'a göre insanların birbirinin haklarını yemesi, helalleşme gerektiren önemli bir suçtur. Hz. Muhammed (s.a.v.) kul hakkı yiyen kimselerin bu hakları ödemedi ve helal ettirmeden ahirete gelmeleri halinde Allah'ın onları affetmeyeceğini belirtmiştir. Bir kimsenin hakkını yiyen kimse, dünyadayken onun hakkını ödemeli ve kendini affettirmelidir. Ancak öyle kul hakları vardır ki tüm toplumun hakkı sayılır ve affedilmek için tüm toplumla helalleşmek gerekir. Kamu malına zarar vermek, doğayı kirletmek tüm toplumun hakkını yemektir ve helalleşme için tüm toplumun rızası alınmalıdır ki bu çok da mümkün değildir.

Bu parçada verilen mesaj aşağıdakilerden hangisidir?

- A) Kul hakkı yiyen kimsenin ciddi anlamda ceza görmesi gerekir.
- B) Bazı kul haklarının telafisi çok zor, hatta imkânsızdır.
- C) Kul hakkı yememek için toplumun fertlerinin bilinçli olması gerekir.
- D) Kul hakkı, dinin tüm kaynaklarında ele alınmış ve uyarılar yapılmış bir konudur.

13. Ne kadar çok çalışırsam çalışayım bir türlü anlamıyorum diye dert yanıyordu. Arkadaşı ise onun gerçekten çok çalıştığını bildiğini ancak ...

Cümlenin akışına göre metnin sonuna aşağıdakilerden hangisi getirilmelidir?

- A) ... plansız çalıştığı için başarılı olamadığını düşündüğünü söyledi.
- B) ... başarılı olmak için çok çalışmanın yeterli olduğunu söyledi.
- C) ... bir konuyu anlamak için çalışması gerektiğini söyledi.
- D) ... yeterince çalıştığını düşündüğünü söyledi.

14. Aşağıdakilerden hangisinde "ki" eki doğru şekilde yazılmıştır?

- A) Gördümki herkes çok sıkı çalışıyor.
- B) Madem ki güceniyorsun, o zaman sen de şaka yapma!
- C) Bu senin kitabın, bu da benimki...
- D) Bana geç geleceğini söylemediki.

15. Mert, dört yaşlarında ailesinin tek çocuğuydu. Bir gün hastalanmış ve ateşi 39 dereceye kadar yükselmişti. Babası, eşine Mert'i hastaneye götürmeleri gerektiğini söyledi. Apar topar hazırlandılar. Annesi Mert'i hazırlarken babası aşağıya inmiş ve aracı çalıştırmıştı. Birlikte hastaneye gittiler. Muayeneden sonra bir süre hastanede gözetim altında kalan Mert, şimdi daha iyiydi. Aile, doktorun yazdığı reçeteyi alarak evlerine geri döndü.

Parçaya göre Mert'le ilgili aşağıdaki bilgilerden hangisi kesin değildir?

- A) Kardeşi bulunmamaktadır.
- B) Sık sık hastalanmaktadır.
- C) Ailesi, kendisini önemsemektedir.
- D) Tedavisi için doktor yardımına ihtiyaç duyulmuştur.

Türkçe testi sona ermiştir. Lütfen Diğer Teste Geçiniz.

Cevap Formunuzda Cevaplarınızı Bir Sonraki Bölüme Kodlayınız.

1. Mehmet'in kumbarasında önceden biriktirdiği 120 TL'si vardı. Mehmet, 5 hafta boyunca her hafta düzenli olarak kumbarasına 55 TL atmıştır. Ancak 6.hafta yine 55 TL koyduğu kumbarasına bir de amcasının verdiği harçlığı eklemiştir. Böylece Mehmet'in kumbarasında son olarak 525 TL para birikmiştir.

Buna göre amcası, Mehmet'e kaç TL harçlık vermiştir?

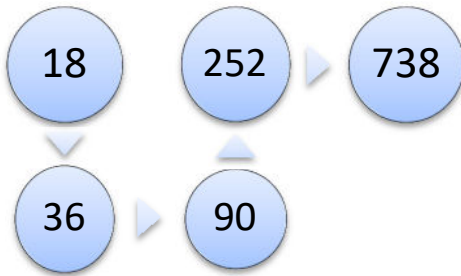
- A) 55
B) 75
C) 100
D) 125

2. Çözümlemiş hali "2 yüz binlik + 3 on binlik + 8 binlik + 1 onluk + 3 birlik" olan bir sayıyla yine çözümlemiş hali "6 yüz binlik + 6 binlik + 2 yüzlük + 9 onluk" olan bir diğer sayı toplanmıştır.

Bu işlemin sonucu aşağıdakilerden hangisidir?




- A) Sekiz yüz kırk dört bin üç yüz üç
B) Altı yüz altı bin iki yüz doksan
C) Sekiz yüz elli üç bin üç yüz on dokuz
D) Altı yüz altı bin beş yüz üç

3. Aşağıda ok işareti yönünde verilen kutuların içindeki sayıların aralarında belli bir örüntü kuralı vardır.



Yukarıda verilen örüntünün kuralı aşağıdakilerden hangisidir?

- A) İki katı
B) 18 fazlası
C) Yarısından dokuz fazla
D) Üç katından 18 eksik

4. Aşağıda verilen toplama işleminde  ,  ve  birer rakamdır.

$$\begin{array}{r} \triangle \star \square \\ \triangle \star \square \\ + \triangle \star \square \\ \hline 1689 \end{array}$$

Buna göre  +  +  işleminin sonucu aşağıdakilerden hangisidir?

- A) 13
B) 14
C) 15
D) 16

5. 945245

Yukarıdaki sayının binler bölümünü en yakın onluğa, birler bölümünü ise en yakın yüzlüğe yuvarlayıp her iki bölümü birbiriy-le yer değiştiriniz.

Ortaya çıkan yeni sonuç sayının ilk halinden kaç eksiktir?

- A) 4955
B) 200950
C) 744295
D) 950200

6. Nüfus sayımı yapılan bir ilçede toplam 17544 kişinin yaşadığı belirlenmiştir. Bu ilçede yaşayan erkeklerin sayısı toplam nüfusun yarısından 302 eksiktir.

Buna göre kadınların sayısı erkeklerin sayısından kaç fazladır?

- A) 8470
B) 9074
C) 302
D) 604

7. Bir okul kermesinde satılmak üzere 35 litrelik limonata hazırlanmıştı. Limonatanın tamamı 3 ve 5 litrelik şişelere hiç artmayacak ve şişeler tam dolacak şekilde doldurulmak istendi.

Buna göre en çok kaç şişe kullanılabilir?

- A) 7
B) 9
C) 11
D) 13

8. Aşağıdaki tabloda dört farklı ilçede bulunan toplam öğrenci sayısı gösterilmektedir.

İlçe	A ilçesi	B ilçesi	C ilçesi	D ilçesi
Öğrenci sayısı	98565	110454	121545	75245

Öğrenci sayısı 102546 olan E ilçesi de bu ilçelerin arasında sıralamaya dâhil edilecektir.

Buna göre büyükten küçüğe sıralandığında E ilçesi hangi ilçeden sonra gelmelidir?

- A) A ilçesi
B) B ilçesi
C) C ilçesi
D) D ilçesi

9. Verilen tablo her satır ve her sütundaki doğal sayıların toplamı birbirine eşit olacak şekilde doldurulacaktır.

234		761
	250	



Buna göre boyalı kareye yazılacak doğal sayı aşağıdakilerden hangisidir?

- A) 277
B) 375
C) 745
D) 1245

10. Aşağıdaki tablodaki bölme işlemlerinde bölümü iki basamaklı olanlar boyanacaktır.

465 15	375 5
828 18	909 9

Doğru boyama işlemi sonucunda ortaya çıkacak şeklin görüntüsü aşağıdakilerden hangisidir?



- 11.** Bir tavuk çiftliğinde üretilen yumurtalar aşağıdaki şekilde paketlenmiştir:

121 adet 30'lu koli

244 adet 15'li koli

147 adet 10'lu koli

337 adet 6'lı koli

Eğer tüm yumurtalar 30'lu kolilere konsaydı son koli tam olarak dolmayacaktı.

Bu durumda son koliyi doldurmak için kaç adet yumurta daha gerekir?

- A) 12
B) 15
C) 18
D) 21

12.

Menü	Fiyat
Lahmacun	50 TL
Etliekmek	90 TL
Börek	75 TL
Ayran	20 TL
Su	10 TL

Bir lokantada yemek yiyen iki kişi toplamda 315 TL hesap ödemiştir.

Buna göre bu kişilerin satın aldıkları aşağıdakilerden hangisi olabilir?

- A) 3 lahmacun, 2 etliekmek, 2 ayran ve 2 su.
B) 2 etliekmek, 1 börek, 2 ayran ve 1 su.
C) 4 lahmacun, 1 börek, 2 ayran ve 2 su.
D) 2 lahmacun, 1 etliekmek, 1 börek, 2 ayran ve 1 su.

- 13.** A, B ve C doğal sayılarının çözümlenmiş hali aşağıda verilmiştir.

$$A = 4000 + 300 + 5$$



$$B = 1000 + 40 + 7$$

$$C = 2000 + 400 + 50 + 6$$

Buna göre A + B + C işleminin sonucu kaçtır?

- A) 7808
B) 7880
C) 8708
D) 8880

- 14.** Fırın almak isteyen bir aile satıcıya gittiklerinde iki farklı kampanya olduğunu görürler. Her iki kampanyayı kıyaslayan bu aile ikinci kampanyayı tercih etmiştir.

1. Kampanya	2. Kampanya
	
5000 TL peşin Kalanı 12 taksitle Toplam 37400 TL	12000 TL peşin Kalanı 12 taksitle Toplam 34800

Buna göre bu aile ilk kampanyaya göre aylık ne kadar daha az taksit ödeyecektir?

- A) 800
B) 1200
C) 1900
D) 2700

- 15.** Bir market üç kapağa bir bedava kampanyası düzenler. Buna göre üç şişe su alanlar bunların kapaklarını getirerek bedava bir su daha alabilmektedir. Bir grup arkadaş aralarında para toplayarak 32 adet su alırlar. Aldıkları suların kapaklarını her defasında markete götürerek kampanyadan birkaç defa yararlanırlar. Örneğin ilk gidişlerinde üç kapağa bir bedava alırlar. İkinci gidişlerinde de kampanyadan ilk defa yararlanarak aldıkları ve ellerinde bulunan kapaklarla tekrar kampanyadan yararlanırlar. Bu durum ellerindeki kapak sayısı yeterli olmayıncaya kadar devam eder.

Buna göre arkadaş grubunun aldığı toplam su miktarı aşağıdakilerden hangisidir?

- A) 42
B) 45
C) 46
D) 47

Matematik testi sona ermiştir. Lütfen Diğer Teste Geçiniz.

Cevap Formunuzda Cevaplarınızı Bir Sonraki Bölüme Kodlayınız.

1.

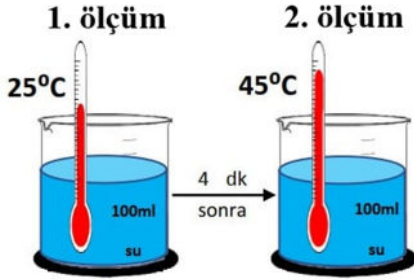


Elinde mıknatıs bulunan bir kimse bunu yanındaki tencereye doğru tuttuğunda mıknatısın tencereyi çekmediğini gördü.

Buna göre tencerenin yapıldığı hammade aşağıdakilerden hangisi olabilir?

- A) Demir
- B) Nikel
- C) Kobalt
- D) Alüminyum

2.



Yukarıda bir dereceli kap içindeki bir miktar suyun dört dakika arayla sıcaklık derecesinin ölçüldüğü ve ikinci ölçümde sıcaklığının değiştiği gösterilmektedir. Ancak kaptaki su miktarında dikkat çekici bir değişiklik olmamıştır.

Buna göre iki durum arasında bu kaba aşağıdaki işlemlerden hangisi uygulanmış olabilir?

- A) Bir süre ısıtılmıştır.
- B) Bir miktar sıcak su eklenmiştir.
- C) İçine buz kütlesi atılmıştır.
- D) 25 derecelik oda sıcaklığında bekletilmiştir.

3.



Görselde Güneş ve Dünya'nın konumuna göre aşağıdaki ifadelerden hangisi doğrudur?

- A) 1 numaralı bölgede gündüz yaşanırken, 2 numaralı bölgede yaz yaşanır.
- B) 2 ve 3 numaralı bölgelerde kış yaşanmaktadır.
- C) 3 numaralı bölge yaz mevsiminde, 4 numaralı bölge kış mevsimindedir.
- D) 2 numaralı bölge geceyken 4 numaralı bölgede yaz mevsimi yaşanmaktadır.

4.

Fosilleri inceleyen ve bu sayede geçmişte yaşamış canlılar hakkında bilgiler edinmemizi sağlayan bilim dalına adı verilir. Bu bilim dalı ile ilgili çalışmalar yapan bilim insanlarına ise adı verilir.

Bu metinde boş bırakılan yerlere gelmesi gereken kavramlar aşağıdakilerden hangisinde verilmiştir?

- A) Klimatoloji – Klimatolog
- B) Sosyoloji – Sosyolog
- C) Paleontoloji – Paleontolog
- D) Antropoloji – Antropolog

5.

HER NEFES DEĞERLİDİR

Akciğer Kanserine Dur De!

Bu görsel öncelikle aşağıdakilerden hangisinin azaltılmasına yönelik hazırlanmıştır?

- A) Sigara bağımlılığı
- B) Yanlış beslenme
- C) Alkol tüketimi
- D) Uykusuzluk

6.



Metin Bey ve ailesi alışverişe çıkarlar.

Alışveriş sırasında dikkat etmeleri gereken kurallarla ilgili aşağıdakilerden hangisi yanlıştır?

- A) Mevsime uygun sebze almak
- B) Önceden ihtiyaç listesi hazırlamak
- C) Ürünlerin üretim tarihine dikkat etmek
- D) Dondurulmuş besinleri alışverişin başında almak

7. Kum tanecikleri kayaların çeşitli etkenlerle aşınması sonucu oluşur. Boyutları genellikle 0,05 milimetre ile 2 milimetre arasında değişir. Kum taneciklerinin rengi ve boyutları oluştukları kayacın yapısı hakkında önemli bilgiler verir. Kum taneciklerinde en yaygın bulunan mineral kuvarstır.

Aşağıdakilerden hangisi kayaların parçalanarak kum tanelerinin oluşmasında etkili olan durumlardan değildir?

- A) Gündüz gece arasındaki yüksek sıcaklık farkı
- B) Canlı kalıntılarının çürümesi
- C) Rüzgâr aşındırması
- D) Deniz dalgalarının oluşturduğu aşındırma

8. Besinlerin içinde vücudumuz için gerekli maddeler bulunur. Besin içerikleri adı verilen bu maddeler protein, karbonhidrat, yağ, vitamin, su ve minerallerdir. Besin içeriklerinin vücudumuzda belirli görevleri vardır.

Aşağıdakilerden hangisinde düzenleyici besinler bir arada verilmiştir?

- A) Vitamin ve mineral
- B) Vitamin ve karbonhidrat
- C) Yağ ve Protein
- D) Protein ve karbonhidrat

9. Lületaş, ana kaya parçalarının yerin muhtelif derinliklerinde başkalaşarak oluşan bir kayaç türüdür. Ülkemizde özellikle Eskişehir ilimizde süs eşyası yapımında kullanılmaktadır. Hafif, yumuşak ve beyazdır. Yumuşak olduğu için kolay işlenebilir. Lületaş yanmaz ve suda yüzer. Islandığında yumuşar ancak kuruyunca tekrar sertleşir.


Bu kayaç türünün beyaz renkli ve yumuşak yapıda olmasının nedeni aşağıdakilerden hangisidir?

- A) Karasal iklimde bulunması
- B) Farklı mineraller içermesi
- C) Yerin derinliklerinden çıkarılması
- D) Suda batmayan yapısı

10. Beslenme konusunda aşağıda verilenlerden hangisi yanlıştır?

- A) Ayçiçeği, fındık ve ceviz gibi kuruyemişler daha çok enerji verir.
- B) Protein ağırlıklı beslenme yaralanmalarda çabuk iyileşmemize yardımcı olur.
- C) Hastalanmamak ve bağışıklığımızın güçlü olması için vitamin alabileceğimiz besinler yemeliyiz.
- D) Kışın az susadığımız için su içmek vücudumuza yarardan çok zarar verir.

11.



Görsel bir kömür ocağına aittir. Ülkemizde özellikle Zonguldak ve çevresinde çokça çıkarılan kömür, yerin metrelerce altından kazılarak yeryüzüne çıkarılır ve yakıldığında yüksek ısı verdiği için demir - çelik üretimi yapan fabrikalarda kullanılır. Ekonomik değeri yüksek bir kayaç çeşididir.

Parçada kömür için yapılan tanım aşağıdakilerden hangisine aittir?

- A) Maden
- B) Tortu
- C) Magma
- D) Fosil

- 12.** Çoğumuz bir yılın 365 günden oluştuğunu biliriz. Aslında bir yıl 365 gün ve yaklaşık altı saatten oluşmaktadır. Bundan dolayı her dört yılda bir altı saatlik bu fark takvimlere 29 Şubat olarak eklenmektedir. Yani dört yılda bir şubat ayı 29 gün çekmektedir.

Bunun nedeni aşağıdakilerden hangisinde açıklanmıştır?

- A) Dünyanın kendi eksenini etrafında dönüş süresi
B) Dünya'nın Güneş çevresindeki dolanım süresi
C) Ay'ın Dünya çevresindeki dönüşü sırasında görüldüğü şekiller
D) Güneş'in kendi eksenini çevresindeki dönüş yönü

- 13.** Aşağıdaki görsel ve açıklamasında tahıl ağırlıklı bir yemek anlatılmaktadır.



Görselde Kültür ve Turizm Bakanlığı tarafından "Delice Bulgur Pilavı" olarak kayıt altına alınan yöresel bir yemek bulunmaktadır. Kendine has şahane bir lezzeti vardır. Diğer bulgur pilavı tariflerinden ayrılan özelliği, büyük yuvarlak bir tepsiye (yöresel adıyla sini) 5-6 kat yufka serilir. Pilav bu yufkaların üzerine yayılarak yenir.

Buna göre bu yemek aşağıdaki hangi besin türü açısından zengin sayılmaktadır?

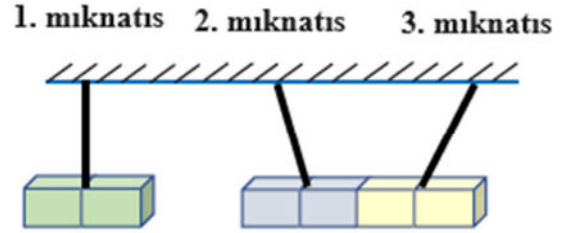
- A) Yağlar
B) Vitaminler
C) Karbonhidrat
D) Proteinler

- 14.** Günümüzde önemli sağlık sorunları arasında gösterilen hastalıklardan birisi obezitedir. Kötü beslenme alışkanlıkları ile ortaya çıkar ve pek çok kimsenin kalp-damar ve başka hastalıklara yakalanmasına neden olur. Temelde bir kimsenin hastalık derecesinde şişmanlaması olarak tanımlanabilir.

Bu hastalığın önlenmesi için yapılabilecekler arasında aşağıdakilerden hangisi bulunmaz?

- A) Hamburger ve pizza gibi yiyeceklerin çok tüketilmemesi
B) Öğünlerin atlanması veya geç saatlere alınması
C) Şeker ve yağ içeren besinlerin aşırı tüketilmemesi
D) Yeterli fiziksel aktivite yapılması

- 15.** Aşağıdaki görselde üç ayrı mıknatıs üç ayrı ipele tavana bağlanmıştır. Birbirlerini itme ve çekme durumları aşağıdaki gösterilmektedir.



Buna göre mıknatısların kutuplarına ait doğru sıralama aşağıdaki hangi şekilde olabilir?

	1. mıknatıs	2. mıknatıs	3. mıknatıs
A)	N - S	N - S	N - S
B)	S - N	S - N	S - N
C)	S - N	N - S	N - S
D)	N - S	S - N	N - S

Fen Bilimleri testi sona ermiştir. Lütfen Diğer Teste Geçiniz.

Cevap Formunuzda Cevaplarınızı Bir Sonraki Bölüme Kodlayınız.

1. kavramına örnek: Dünyanın herhangi bir noktasında hayatını kaybeden bir çocuk gördüğümde sanki kendi çocuğumun başına gelmiş gibi üzülüyorum.

..... kavramına örnek: Yanlış bir düşüncede de olsa herkesin söz hakkının olması ve fikirlerini açıkça söylemesi taraf-tarıyım. Hata ettiklerinde de hemen cezalandırmamalıyız.

Noktalı yerlere aşağıdakilerden hangisi getirilmelidir?

- A) İlgî - Yetenek
- B) Akıl - Düşünme
- C) Empati - Hoşgörû
- D) İstek - İhtiyaç

2. Dedem beni şöyle anlatırdı: "Çocukken eline kalemi alır, onu mikrofon yapar, herkese sorular sorardın. Eline geçirdiğin bir boruyu sanki kameraymış gibi tutup evin içinde epey çekim yapmıştın. O zamandan bu mesleği seçeceğin belliydi."

Dedesinin kendi hakkında bilgi verdiği kimse, ilgi alanına göre aşağıdaki mesleklerden hangisini seçmiş olmalıdır?

- A) Polislik
- B) Mimar ve Mühendislik
- C) Doktorluk
- D) Basın ve Habercilik

3.



Sadece yukarıdaki görsele bakarak çocuklar hakkında aşağıdaki hangi konuda bilgi verilebilir?

- A) İhtiyaç duydukları konular
- B) Fiziksel özellikleri
- C) Hangi alanda yetenekli oldukları
- D) İlgî alanları

4. Millî kültürümüzün öğeleri, sadece tarihî yapılarla sınırlı değildir. Bunların yanında somut olan ve olmayan birçok millî kültür öğemiz vardır. Örneğin özel gün ve geceler, kutlamalar gibi soyut öğeler de milli kültür öğeleri içinde yer alır. Ancak bir öğenin milli kültür öğemiz olarak sayılması için tarihimizde yer etmiş bir geleneğimiz olması gerekir.

Buna göre aşağıdakilerden hangisi milli kültür öğelerimiz arasında yer almaz?

- A) Kına gecesi
- B) Ramazan eğlencesi
- C) Boğa güreşi
- D) Misafire kahve ikramı

5. Aşağıdaki haritada dört ilimizin yeri gösterilmektedir.



Bunlardan hangisi Kurtuluş Savaşı'mızda Yunan askerlerinin işgaline karşı Gazeteci Hasan Tahsin'in ilk kurşunu attığı yerdir?

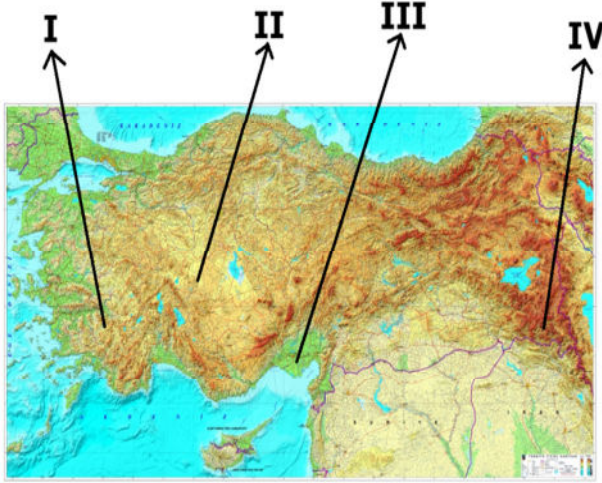
- A) İzmir
- B) Gaziantep
- C) Erzurum
- D) Samsun

6. Teknolojinin günümüzdeki kadar gelişmediği dönemlerde çocuk oyunları incelendiğinde genellikle evin dışında ve birlikte oynanan oyunların daha çok olduğu göze çarpar. Ancak günümüzde çocuklar daha çok dijital ortamlarda teknolojik araçlar aracılığıyla oyunlar oynamaktadır. Gelecekte çocuk oyunlarının bilinme ve oynanma oranı da gitgide azalmaktadır.

Aşağıdakilerden hangisi kaybolmaya yüz tutmuş geleneksel çocuk oyunlarımızdan değildir?

- A) Çelik çomak
- B) Topaç çevirme
- C) Satranç
- D) Seksek

7.



Uludoruk Buzul Dağı 4135 metre yüksekliğe sahip Hakkâri ili sınırlarımızda yer alan bir dağımızdır. Fiziki haritalarda yükseklikler farklı renklerde gösterilmektedir.

Buna göre Uludoruk Dağı yukarıdaki haritada hangi numarayla gösterilen yerde bulunuyor olabilir?

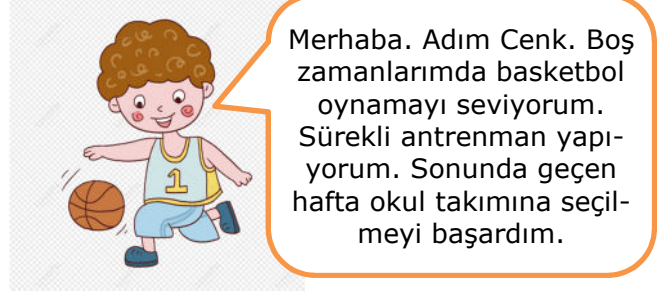
- A) I
- B) II
- C) III
- D) IV

8. I. Cumhuriyetin ilanı
II. TBMM'nin açılması
III. Çanakkale Savaşı
IV. Atatürk'ün Samsun'a çıkışı

Verilen olayların kronolojik sıralaması aşağıdakilerden hangisidir?

- A) I - III - II - IV
- B) III - IV - II - I
- C) II - I - IV - III
- D) III - IV - I - II

9.



Merhaba. Adım Cenk. Boş zamanlarımda basketbol oynamayı seviyorum. Sürekli antrenman yapıyorum. Sonunda geçen hafta okul takımına seçilmeyi başardım.

Cenk'in verdiği bilgilerle ilgili aşağıdakilerden hangisi doğrudur?

- A) Basketbola olan ilgisinin yeteneğini geliştirmesine destek olduğunu söylemiştir.
- B) Farklı bir alanda yeteneğinin bulunmadığını belirtmektedir.
- C) Tek ilgi alanının basketbol olduğunu söylemektedir.
- D) Basketbola ilgisinin olduğunu ancak yeteneğinin bulunmadığını belirtmektedir.

10. Ülkemizde 2016 yılından itibaren nüfus cüzdanları yeni kimlik kartları ile değiştirilmeye başlandı. Bu değişim sayesinde kimlik kartlarında bazı yenilik ve değişiklikler de ortaya çıkmış oldu.

Aşağıdakilerden hangisi bu değişikliklerden değildir?

- A) Cinsiyet farkı nedeniyle farklı renkte kimlik belgesi kullanımı ortadan kalktı.
- B) Elektronik çip bölümü sayesinde akıllı kart özelliği kazanıldı.
- C) Yeni kimlik belgelerinde imza bölümünde belge sahibinin imzası yer almaktadır.
- D) TC kimlik numaraları yeni kimlik kartlarında ilk defa kullanılmaya başlandı.

Sosyal Bilgiler testi sona ermiştir. Lütfen Diğer Teste Geçiniz.

Cevap Formunuzda Cevaplarınızı Bir Sonraki Bölüme Kodlayınız.

1. Subhaneke duası,

I. Bütün namazların ilk rekâtında okunan bir duadır.

II. Allah'a (c.c.) hamt ve övgüler içerir, onun yüceliğini dile getirir.

III. Allah'tan (c.c.) başka ilah olmadığını söylediği duadır.

Subhaneke duası hakkında yukarıda verilenlerden hangisi doğrudur?

- A) Yalnız I
B) I ve II
C) II ve III
D) I, II ve III

2. "Her kim, 'Ben şahitlik ederim ki Allah'tan başka ilâh yoktur, O tektir, ortağı yoktur; Muhammed O'nun kulu ve elçisidir derse Allah onu, cennetin sekiz kapısından hangisini dilerse oradan cennetine koyar.'" (Müslim)

Bu hadise göre cennete girmek için aşağıdakilerden hangisini söylemek gerekir?

- A) Kelime-i Tevhid
B) Salavat
C) Kelime-i Şehadet
D) Tesbihat

3. "Orada apaçık nişaneler, (ayrıca) İbrahim'in makamı vardır. Oraya giren emniyette olur. Yoluna gücü yetenlerin o evi ziyaret etmesi, Allah'ın insanlar üzerinde bir hakkıdır..." (Âl-i İmrân suresi, 97. ayet)

Bu ayetle ilgili aşağıdakilerden hangisi söylenemez?

- A) Ayette emredilen ibadeti yapmak için Mekke'ye gitmek gerekir.
B) Bu ibadeti yapmak için kişinin günahsız olması gerekir.
C) Ayette geçen "ev" ifadesi ile Beytullah kast edilmiştir.
D) İmkânı olanların bu ibadeti mutlaka yapması gerekir.

4. Aşağıda Kur'an-ı Kerim'de her yirmi sayfada bir sayfa kenarlarında bulunan bir işaret gösterilmektedir. Bu işaret 20 sayfalık bir bölümün bittiğini ve sonraki 20 sayfalık bölümün başladığını göstermektedir.



Buna göre bu işaret aşağıdakilerden hangisinin bitip başladığını göstermektedir?

- A) Sure
B) Hizb
C) Cüz
D) Ayet

5. Aşağıdakilerden hangisi dua içeren bir ayet değildir?

- A) "Ey Rabbimiz! Bizi sana boyun eğenlerden kıl, neslimizden de sana itaat eden bir ümmet çıkar,"
B) "...Rabbimiz! Unutursak veya hataya düşersek bizi sorumlu tutma."
C) "...O'nun yürümesi ve durması Allah'ın adıdır. Rabbim bağışlayandır ve merhamet edendir."
D) "...Ey Rabbimiz! Üzerimize sabır yağdır ve Müslüman olarak bizim canımızı al."

6. Allah, o kadar büyük ve yücedir ki onun gücünün üstünde hiçbir varlık olamaz.

Bu cümlede verilen bilgi aşağıdakilerden hangisinin açıklamasıdır?

- A) Tekbir
B) Hamd
C) Besmele
D) Salavat

7. "Haklı bile olsa çekişip didişmeyen kimseye cennetin kenarında bir köşk verileceğine ben kefilim. Şakadan bile olsa yalan söylemeyen kimseye cennetin ortasında bir köşk verileceğine kefilim. İyi huylu kimseye de cennetin en yüksek yerinde bir köşk verileceğine kefilim." (Ebu Davud)

Bu hadisin söyleniş amaçlarından biri aşağıdakilerden hangisi olamaz?

- A) Tartışmaları azaltmak
B) Doğru sözlü olmayı teşvik etmek
C) Kötü davranışlardan uzaklaştırmak
D) Hak aramanın önünü kesmek

8. Bir hadis-i kutside Peygamberimiz, Allah'ın şöyle buyurduğunu bildirmektedir: "...Her kim dua ederse duasına karşılık veririm, her kim benden bir şey isterse istediğini yerine getiririm, her kim benden bağışlanma dilerse onu affederim."

Altı çizili bölümü yerine getirmek isteyen bir kimsenin öncelikle aşağıdakilerden hangisini söylemesi gerekir?

- A) Elhamdulillah
B) Estağfirullah
C) Subhanallah
D) Maşaallah

9. Yapılması, söylenmesi, yenilip içilmesi dinî bakımdan uygun bulunan ve yasaklanmayan şeylerdir.

Bu tanımın ait olduğu kavram aşağıdakilerden hangisinde geçmektedir?

- A) Helal süt emmiş, dürüst, temiz, çalışkan bir mühendis bulalım.
B) Günah benden gitti deyince biraz korktum.
C) Sevabına bir bardak su verir misin?
D) Yalan söylemek haram değil mi?

10.



Yukarıdaki şemada noktalı yere aşağıdakilerden hangisi getirilmelidir?

- A) Fatiha suresi
B) Amentü duası
C) Subhaneke duası
D) Tahiyat duası

Din Kültürü ve Ahlak Bilgisi testi sona ermiştir. Lütfen Diğer Teste Geçiniz.

Cevap Formunuzda Cevaplarınızı Bir Sonraki Bölüme Kodlayınız.

1. Look at the picture and read the dialogue.

Sam : Hey Janet, look at the girl. Is she from France?

Janet : Yes, - - - -



Choose the correct answer.

- A) she isn't
- B) I think so
- C) she is from UK
- D) she is from Italy

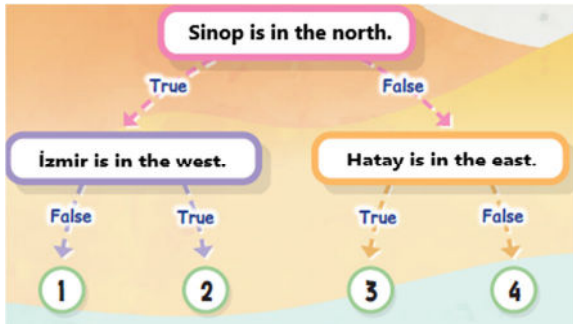
2.

Countries	Nationalities
Türkiye	Turkish
Pakistan	Pakistani

Tabloda noktalı yere aşağıdakilerden hangisi yazılabilir?

- A) Canada
- B) Germany
- C) British
- D) Spain

3.



Read the sentences and choose the correct options.

- A) 1
- B) 2
- C) 3
- D) 4

4.



Görsele göre Roadrunner ile ilgili aşağıdakilerden hangisi doğrudur?

- A) Uçuyor ancak yüzemiyor.
- B) Koşuyor ama hızlı değil.
- C) Hızlı uçuyor ama yavaş koşuyor.
- D) Hızlı koşuyor ancak uçamıyor.

5.



Boş bırakılan yere aşağıdakilerden hangisi getirilmelidir?

- A) ask
- B) ride
- C) use
- D) cut

Sınav sona ermiştir. Cevaplarınızı kontrol etmeyi unutmayınız.

