



ANADOLU İMAM HATİP LİSESİ İMAM HATİP ORTAOKULU 5. SINIF GİRİŞ SINAVI 2024

Adı Soyadı :
Okulu :
T.C. Kimlik No :

ALANLAR	SORU SAYISI	TOPLAM SORU SAYISI	SÜRE
TÜRKÇE	15	70 SORU	100 DAKİKA
MATEMATİK	15		
FEN BİLİMLERİ	15		
SOSYAL BİLGİLER	10		
DİN KÜL.AH.BİL.	10		
YABANCI DİL	5		

1. Sınav süresince gözetmenlerin uyarılarına dikkat ediniz.
 2. Sınav süresince kitap, sözlük veya elektronik araçları yanınızda bulundurmuyunuz.
 3. Cevap kağıdınızdaki bilgilerin doğruluğunu kontrol ediniz.
 4. Kitapçık üzerindeki ad-soyad, sınıf-no, okul bilgileriniz kodlamayı unutmayınız.
 5. Cevap kağıdınız üzerinde bulunan kitapçık türünü doğru kodladığınızdan emin olunuz.
 6. Sınavın değerlendirilmesi optik okuma araçları ve elektronik ortamda yapılacağından ikili veya toplu kopya çekilmesi tespit edilmektedir. Bu gibi durumlarda sınavınız geçersiz sayılacaktır.
 7. Cevap kağıdı üzerinde kurşun kalemle işaretleme yapınız. Değiştirmek istediğiniz cevabınızı yumuşak silgi ile iz bırakmadan siliniz. Cevap kağıdınızı buruşturmayınız ve katlamayınız.
 8. Soru kitapçığınızı sınav başlamadan kontrol ediniz. Eksik sayfa varsa değiştirilmesini isteyiniz.
 9. Sınav bitiminde cevap kağıdınızı teslim etmeyi unutmayınız. Her sorunun bir doğru cevabı bulunmaktadır.
 10. Başlayınız denilmeden kitapçığınızı açmayınız.
 11. Dört yanlış cevap bir doğru cevabı götürmektedir.
 12. **ÖNEMLİ:** TC Kimlik numaranızı cevap formu üzerindeki alana dikkatli kodlayınız.
- © Her hakkı saklıdır. İzinsiz kopyalanamaz, alıntı yapılamaz, yayınlanamaz.

1.



Bir satranç turnuvasında ilk altı sırayı alan sporcuların isimleri karışık olarak şöyle verilmiştir: Osman, Mert, Kasım, Sami, Mustafa, Hamza

- Yarışmacılardan Sami 5. sırayı almıştır.
- Mert ile Mustafa sıralamada arka arkadır ve her ikisi de sıralamada Kasım'dan sonra gelmektedir.
- Hamza ile Osman arasında ise dört kişi bulunmaktadır ve Hamza başarı sıralamasında Osman'dan öncedir.

Buna göre turnuvayı 2. sırada bitiren sporcu aşağıdakilerden hangisidir?

- | | |
|----------|------------|
| A) Kasım | B) Mert |
| C) Hamza | D) Mustafa |

2. (1) Evsel atık sorunu günümüzde sıkça dile getirilen konulardan biridir. (2) Evsel atık; tükettiğimiz ürünler veya kullandığımız malzemelerden geriye kalan atıklar olarak tanımlanabilir. (3) Bu atıkların geliştiği güzel çöpe atılması veya çevreye boşaltılması bu sorunu ortaya çıkarmaktadır. (4) Oysa atıkları daha evden çıkmadan cinsine göre sınıflandırsak ve geri dönüşüm olabilecekleri ayırıp geri dönüşüm kutularına atsak daha yararlı olabilirdi. (5) Bu şekilde gelecek nesillere daha yaşanabilir bir dünya bırakma yolunda iyi bir adım atmış oluruz.

Bu metnin ilk cümlesindeki soruna numaralandırılmış cümlelerin hangisinde bir çözüm sunulmuştur?

- A) 2.
- B) 3.
- C) 4.
- D) 5.

3. Sınıfta maddi açıdan ihtiyaç sahibi bir öğrenci vardı. Kimi zaman okula yemek getiremez, kimi zaman da yağmurlu günde okula yürüyerek geldiği için sırlıklam olurdu. Arada sırada ufak tefek yardımlar yapılırsa da ihtiyaçları tam olarak karşılanamıyordu. Günün birinde çevre esnaflardan biri okulu ziyaret etti. İhtiyaç sahibi o öğrenciye öğrenim süresi boyunca burs vermek istediğini belirtti. Herkes çok sevinmişti.

Bu parçada verilen mesaj aşağıdakilerden hangisidir?

- A) Özgürlüğüne düşkün olmak başkalarının hakkını yemek anlamına gelmez.
- B) İhtiyaç sahibi olmak utanılacak bir durum değildir.
- C) Okulda herkes eşit haklara sahip olmalıdır.
- D) Paylaşma ve yardımlaşma mutluluk kaynağıdır.

4. Arkadaşları tarafından sevilen bir çocuktü. Küçüklüğünden beri herkes onu severdi. O da mahallesini, arkadaşlarını çok severdi. Yakın zamanda girdiği bir sınavı kazandığını öğrenmiş ve başka bir şehirde okuması gerekiyordu. İşte bu nedenle ...

Cümlelerin akışına göre sondaki noktalı yerden itibaren aşağıdakilerden hangisiyle tamamlanması gerekir?

- A) ... okuyacağı yere bir an önce gitme konusunda çok heyecanlıydı.
- B) ... sevinse mi üzülse mi bilemedi.
- C) ... başka şehirde okumanın kendisine ruhen iyi geleceğini söylemişti.
- D) ... yolculuk biletini çoktan almış, hazırlığa başlamıştı.

5. "Televizyonda çok acıklı bir film vardı. Seyrederken insanın içi parçalanıyordu."

Metinde geçen mecaz anlamlı ifadenin anlamca karşılığı aşağıdakilerden hangisidir?

- A) Şaşkınlığını gizleyememek
- B) Aşırı utanmak
- C) Çok üzölmek
- D) Ayıplamak

6. Küçüklüğünden beri boksla uğraşan sporcu, kazandığı şampiyonluklarının ilkinde 22 yaşında katıldığı bir turnuvada ulaştı. İlerleyen yaşlarda da profesyonel olarak boksla ilgilenmiş ancak yaşadığı bir sakatlık sonucu bokstan uzaklaşmıştır.

Bu parçada hakkında bilgi verilen kişiyle ilgili aşağıdakilerden hangisi kesinlikle söylenir?

- A) Boks sporuna devam etmektedir.
B) Sakatlığı devam etmektedir.
C) Şu an yaşı 25-30 arasındadır.
D) Birden çok defa şampiyon oldu.

7. Araç şoförü kapıyı açıp patlayan lastiğe bakmak için indi. Bir taraftan homurdanırken diğer taraftan dün gittiği lastik tirmisine kızıyordu. O sırada yolculardan Ali Dede de minibüsten inip yanına geldi. Daha pek çok kimse de minibüs şoförüne yardıma koşuyordu. Hepsi el birliğiyle lastiği değiştirmeye başladı. Öğretmenim Semih Bey de buradaydı. Bir ara bana dönüp "Cemil evladım! Arka bagaja bir bakıver! Şoför amcan orada yedek bir lastik olduğunu söyledi. Bak bakalım orada duruyor mu?"

Bu metinde anlatımı aşağıdakilerden hangisi yapmış olmalıdır?

- A) Minibüs şoförü
B) Cemil
C) Semih Bey
D) Ali Dede

8. "yazılmak" sözcüğü aşağıdaki cümlelerden hangisinde "kaydolmak" anlamında kullanılmıştır?

- A) Karlara yazılmış gerçek bir destandır.
B) El yazısıyla yazılan kitaplar şimdilerde çok değerlidir.
C) Kağıda yazılması ricasıyla sözlerini tekrarladı.
D) Yeni okuluna yazılmak üzere yarın yola çıkacak.

9. (Soruyu aşağıdaki tabloya göre cevaplandırınız.)

Çarşı Adı	Bulunduğu il	Yapım yılı	Dükkan sayısı
Almacı Çarşısı	Gaziantep	1760	12
Revaklı Çarşı	Mardin	1650	30
Kemeraltı Çarşısı	İzmir	1744	80
Demirciler Çarşısı	Karabük	1675	25
Ziyaret edilen çarşılara ait bilgiler			

Bir grup turist şehirde geziyorlardı. Son olarak ziyaret ettikleri tarihi çarşayı içlerinden biri şu şekilde tarif etmişti: "Gittiğimiz yer 1700'lü yıllarda inşa edilmiş olan bir yerdi. Ben gezerken içinde en az 60 dükkan olduğunu saydım ama tam sayılarından emin değilim."

Buna göre turist grubunun ziyaret ettiği çarşı aşağıdakilerden hangisindedir?

- A) Gaziantep
B) Mardin
C) İzmir
D) Karabük

10. Elimizden telefonları hiç düşürmüyoruz. Yapacağımız her şeyde mutlaka onlara bir rol veriyoruz. Manzarayı artık telefonlardaki kameralardan görüyoruz. Neredeyse kendi gözümüzle hiçbir şeye bakmaz olduk. Aklımızda bir şeyi tutmamıza gerek kalmadı. Telefona kaydedip önemli bilgileri onda saklamaya başladık. Bizim yerimize o yaşıyor gibi. Bu ne kadar doğru? Biraz düşünsük fena olmaz.

Verilen metnin başına getirilebilecek en uygun başlık aşağıdakilerden hangisidir?

- A) Telefonun Önemi
B) Teknoloji Bağımlılığı
C) Telefon Teknolojisi
D) Sosyal Medyadaki Yaşam

11.



Bu görsel aşağıdakilerden hangisine dikkat çekme amacıyla hazırlanmıştır?

- A) İsrafın Önlenmesi
- B) Enerji Üretimi
- C) Kaynakların Adaletli Kullanımı
- D) Çalışmanın Ekonomiye Katkısı

12. Mahallemdeki fırından her gün iki ekmek alıyorum ama ...

“Ama” sözcüğü göz önüne alındığında üç nokta ile belirtilen yere aşağıdakilerden hangisi getirilmelidir?

- A) Dün de iki ekmek aldım.
- B) Mahallemdeki fırından ekmek alacağım.
- C) Misafir geleceği için bu defa dört ekmek almak gerekiyor.
- D) İki ekmek almaya karar verdim.

13. Onu her gördüğümde halini hatırını sorar, önce ben selam veririm ama bir kere olsun benim nasıl olduğumu sormadı.

Bu cümlede hâkim olan duygu aşağıdakilerden hangisidir?

- A) Sevinç
- B) Sitem
- C) Korku
- D) Bağışlama

14. Aşağıdaki cümlelerde geçen altı çizili sözcüklerin hangisinde yazım yanlışı yoktur?

- A) 29 Mayıs 1453 tarihinde İstanbul fet-hedildi.
- B) Koşu yarışında az bir farkla 1.ciliği kaçırdım.
- C) Necip Fazıl kısıakürek tarihimizdeki en meşhur şairlerimizdendir.
- D) Herkes gibi bende milletime yararlı iş-ler yapmak isterim.

15. Bilim insanları, sanayi alanındaki aşırı üretim faaliyetleri nedeniyle ortaya çıkan gazların daha fazla enerjiyi dünyada tutarak sıcaklıkların yükselmesine neden olduğunu söylüyor. Bu durum doğal sera gazı etkisinin daha fazla hissedilmesine de yol açmaktadır. Bunu küresel ısınma olarak adlandırabiliriz. Karbondioksit, su buharı, metan gibi bazı gazlar Güneş'ten gelen radyasyonun dış uzaya yansımalarını önler. Radyasyondaki ısı ise yerkürenin daha fazla ısınmasına yol açar.

Bu metinde eleştirilen konu aşağıdakilerden hangisidir?

- A) Bilim insanlarının çalışmaları
- B) Sanayideki aşırı üretim faaliyetleri
- C) Korunmadan radyasyonla temas etme
- D) Tarımsal üretimin geri kalması

Türkçe testi sona ermiştir. Lütfen Diğer Teste Geçiniz.

Cevap Formunuzda Cevaplarınızı Bir Sonraki Bölüme Kodlayınız.

1. Bir işyerinde üç farklı boyda yapılan hediye paketleri, boyutu aynı olan kutulara konulacaktır. Her bir kutuya büyük boy hediye paketinden 10, orta boy hediye paketinden 15 ve küçük boy hediye paketinden ise 20 adet sığmaktadır. Kutulara konulacak hediye paketi sayısı ise şu şekildedir:

Büyük boy hediye paketi: 360 adet

Orta boy hediye paketi: 540 adet

Küçük boy hediye paketi: 720 adet

Buna göre taşıma işlemi için kaç adet kutu gerekmektedir?

- A) 92
B) 98
C) 104
D) 108

2.

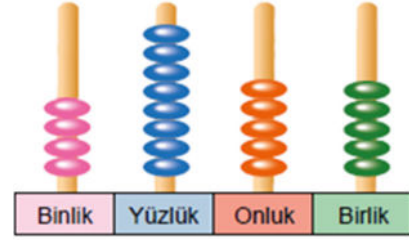
Ürün	Kilo fiyatı
Mandalina	12 TL
Portakal	15 TL
Armut	28 TL
Kivi	38 TL
Ananas	30 TL

Bir manav dükkânındaki bazı ürünlerin kilogram fiyatları yukarıda verilmiştir.

Buna göre aşağıdaki müşterilerin hangisi diğerlerinden daha çok harcamaya yapmıştır?

- A) Selma: "İki kilo ananas, yarım kilo kivi ve bir kilo portakal aldım."
B) Melis: "Bir kilo mandalina, bir buçuk kilo armut ve bir kilo kivi aldım."
C) Hatice: "İki kilo portakal, bir kilo mandalina ve yarım kilo kivi aldım."
D) Deren: "Bir kilo armut, bir kilo ananas ve yarım kilo kivi aldım."

3. Görseldeki abaküse boncuklar takılarak dört basamaklı bir doğal sayı modellenmesi yapılmıştır.



Yukarıda modellenmiş olan sayıdan 3711 sayısı çıkarılıyor. Çıkarma işlemi sonucunda bulunan sayı abaküse tekrar boncuklarla modellenmiştir.

Buna göre en son durumda abaküste bulunan boncuk sayısı aşağıdakilerden hangisidir?

- A) 8
B) 10
C) 13
D) 19

4.



Bisiklet Satış Planı:

Peşinat: 350 TL

Taksit tutarı: 225 TL

Taksit sayısı: 8

Erdem Bey, yukarıdaki bisikleti oğluna almıştır. Ancak bisikletin ücretinin tamamını peşin olarak vermiş ve bu şekilde peşin indirimini ile 75 TL ucuza satın almıştır.

Buna göre Erdem Bey'in bisikleti satın alırken ödediği ücret aşağıdakilerden hangisidir?

- A) 2000
B) 2075
C) 2150
D) 2275

5. Bir işyeri sahibi çalışanlarına iş elbisesi almayı planlamaktadır. Bunun için elbise satan bir mağaza ile her 4 iş elbisesi için 3 iş elbisesi parası ödemek üzere anlaşmıştır. Bir iş elbisesinin fiyatı ise 225 TL'dir. İş yerinde 56 çalışan bulunmaktadır.

Buna göre iş elbiseleri için ödenecek olan para toplam kaç TL'dir?

- A) 7875
B) 8775
C) 9450
D) 12600

6. Bir simitçi hafta içi 5 günde toplam 1443 simit satmıştır. Simidin en çok satıldığı gün çarşambadır. En az simit satılan gün ise salı olmuştur. Pazartesi günü satılan simit sayısı 331, perşembe günü satılan simit sayısı 295, cuma günü ise satılan simit sayısı 277'dir.

Buna göre salı günü satılan simit sayısı en çok kaç olabilir?

- A) 198
B) 203
C) 208
D) 213

7. Bir sayının çözümlenmiş hali "5 yüz binlik + 3 binlik + 6 yüzlük + 5 onluk" şeklinde yazılmıştır. Daha sonra bu sayıya "5 on binlik" ve "3 birlik" eklenmiştir.

Buna göre bu işlemin sonucunda elde edilen sayının yazılışı aşağıdakilerden hangisidir?

- A) Beş yüz elli bin üç yüz elli üç
B) Beş yüz altmış bin üç yüz beş
C) Beş yüz elli beş bin altı yüz üç
D) Beş yüz elli üç bin altı yüz elli üç

8.

$$\begin{array}{r} 3325 \quad | \quad 40 \\ - 320 \quad | \quad 83 \\ \hline 125 \\ - 120 \\ \hline 5 \end{array}$$

Yukarıdaki verilen bölme işleminin sağlaması aşağıdakilerden hangisidir?

- A) $(40 \times 5) + 125 =$
B) $(83 \times 40) + 5 =$
C) $(40 \times 83) - 320 =$
D) $(83 \times 5) - 40 =$

9. I- Önce tek basamaklı iki sayı belirleyin.

II- Belirlediğiniz sayıları birbiriyle çarpın.

III- Çarpım sonucu elde ettiğiniz sayıdan başta belirlediğiniz iki sayının toplamını çıkarın.

Buna göre 7 ve 9 sayılarını belirlediğinizde ve yukarıdaki adımları takip ettiğinizde ulaşılabilecek sonuç aşağıdakilerden hangisidir?

- A) 47
B) 56
C) 54
D) 63

10.

	41	
?		41
41	21	

Yukarıdaki tabloda bulunan sayılar soldan sağa ve yukarıdan aşağıya toplandığında 87 sonucunu vermektedir.

Buna göre soru işareti olan yere kaç yazılmalıdır?

- A) 24
B) 23
C) 22
D) 21

11. Aşağıdaki tabloda dört farklı ilçede bulunan toplam öğrenci sayısı gösterilmektedir.

İlçe	A ilçesi	B ilçesi	C ilçesi	D ilçesi
Öğrenci sayısı	121545	110454	98565	75245

Buna göre hangi ilçenin öğrenci sayısının birler bölümündeki sayı diğerlerinden büyüktür?

- A) A ilçesi
B) B ilçesi
C) C ilçesi
D) D ilçesi

12.



Bir öğrenci bilgisayarının açılışı için dört haneli bir şifre belirlemek istemiştir. I numaralı kutuya en küçük tek rakamı, II numaralı kutuya en küçük çift rakamı belirledi. III numaralı kutuya bir basamaklı en büyük tek rakamı, IV numaralı kutuya da bir basamaklı en büyük çift rakamı belirlemiştir.

Buna göre     sıralaması aşağıdakilerden hangisidir?

- A) 8910
B) 1298
C) 1199
D) 9801

13.

650724

Yukarıdaki sayının binler bölümü ile birler bölümünün sayı değerleri toplamı aşağıdakilerden hangisidir?

- A) 724
B) 789
C) 1374
D) 6507

14.

Yetmiş dört bin altı yüz elli iki

— Altmış üç bin iki yüz iki




.....?.....

Verilen işlemin sonucu aşağıdakilerden hangisidir?

- A) On iki bin iki yüz
B) On bir bin dört yüz elli
C) On bin üç yüz yetmiş
D) On bir bin beş yüz elli

15. Aşağıda verilen iki işlemin sonuçları eşittir.

$$\begin{array}{r} 3265 \\ - 1225 \\ \hline \end{array} \quad \begin{array}{r} \triangle 026 \\ + 1\star 1\blacksquare \\ \hline \end{array}$$

Verilen toplama işleminde  ,  ve  birer rakamdır.

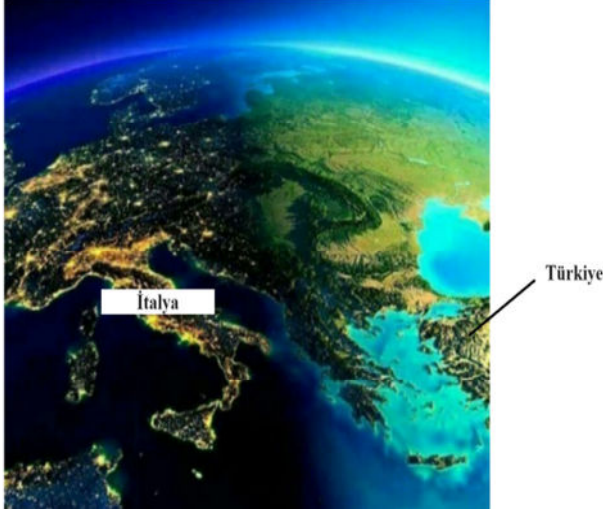
Buna göre  ,  ve  rakamlarıyla yazılabilecek en büyük sayı aşağıdakilerden hangisidir?

- A) 521
B) 245
C) 140
D) 410

Matematik testi sona ermiştir. Lütfen Diğer Teste Geçiniz.

Cevap Formunuzda Cevaplarınızı Bir Sonraki Bölüme Kodlayınız.

1. Görselde Avrupa kıtasında gündeğümü zamanı gösterilmektedir. Bu haritada Türkiye’de gündeğümü gerçekleşmiş olmasına rağmen henüz İtalya’nın bulunduğu yerde gündeğümü gerçekleşmemiştir. Bir süre sonra Avrupa’nın tamamında da gündeğümü gerçekleşecektir.



Bu örnekte gündeğümü olayının önce Türkiye’de gerçekleşmesi aşağıdakilerden hangisiyle ilişkilendirilebilir?

- A) Dünya’nın kendi çevresindeki dönüş yönü
B) Dünya’nın kendi çevresindeki dönüş hızı
C) Dünya’nın Güneş çevresindeki dolanım süresi
D) Avrupa kıtasının kuzey yarımkürede bulunması

2. Kayaçlar arasında bazılarının ekonomik yönden değeri yüksektir. Bu tür kayaçlara maden adı verilir. Ülkemizde de farklı madenler çıkarılmaktadır. Bu madenlerden bir kısmı ekonomik açıdan diğerlerinden daha değerlidir.

Aşağıdaki madenlerden hangisi ülkemizde bulunmamaktadır?

- A) Altın
B) Bakır
C) Elmas
D) Gümüş

3.

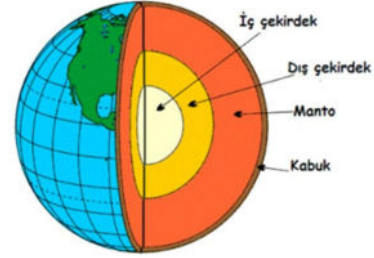


Boyumun uzaması ve kemik gelişimim için bolca süt içmem gerekiyor.

Bebeğin gelişim sürecinde süt içme gereği aşağıdakilerden hangisine olan ihtiyacından kaynaklanmaktadır?

- A) Vitamin
B) Karbonhidrat
C) Yağ
D) Protein

4.




Görselde Dünya’nın katmanları gösterilmektedir. Bu katmanlardan bir tanesinde bulunan magma çeşitli yollarla yeryüzüne ulaşarak soğuyup katılaştır.

Bu durum öncelikle aşağıdakilerden hangisinin oluşmasına neden olur?

- A) Fosil
B) Kayaç
C) Mineral
D) Mıknatıs

5. **Karbonhidrat ağırlıklı beslenmek isteyen bir kimse, beslenme programında aşağıdakilerden hangisine daha çok yer vermelidir?**



6.

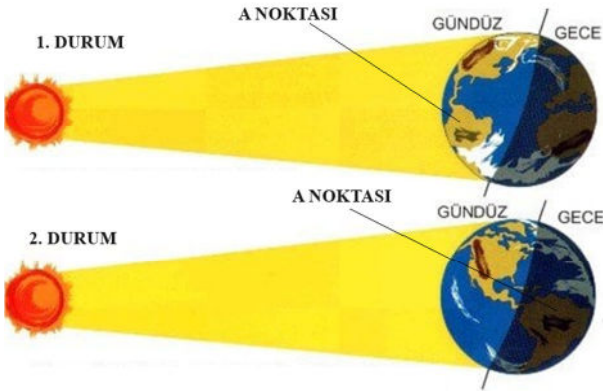


Görsel 2019 yılında Konya'nın Hadim İlçe-
sindeki Geyik Dağlarında bulunan bir fosile
aittir. Buluntu keşfedildikten bir süre sonra
fosil bilimi konusunda uzman bilim insan-
ları tarafından incelendi ve tahmini yaşının
98 milyon yıl olduğu belirlendi.

**Metinde buluntuyu inceleyen bilim
insanlarının uzman oldukları bilim
dalı aşağıdakilerden hangisidir?**

- A) Paleontoloji
- B) Antropoloji
- C) Arkeoloji
- D) Astroloji

7.



1. DURUM olarak adlandırılan görselde A
noktasında güneş henüz batmamıştır. 2.
DURUM olarak adlandırılan görselde ise A
noktasında hava kararmış ve zaman ak-
şam saatlerini göstermektedir.

**A noktasındaki bu iki durum farkının
oluşma nedeni aşağıdakilerden han-
gisidir?**

- A) Güneş'in kendi çevresinde dönmesi
- B) Dünya'nın kendi çevresindeki dönmesi
- C) Dünya'nın Güneş çevresinde dolanması
- D) Güneş'in Dünya çevresinde dolanması

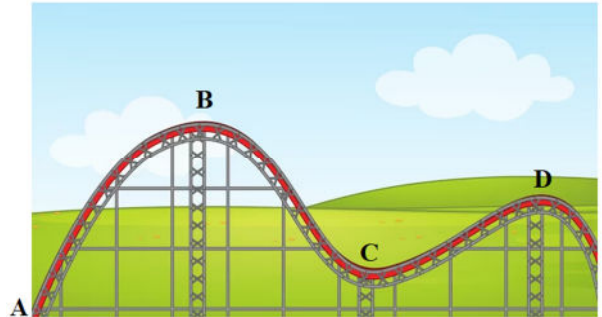
8. Aşağıda fosilleşme konusuna ait görseller
verilmiştir. Her bir görselin altına bir açık-
lama yazılmak istenmektedir.



**Buna göre aşağıdakilerden hangisi
görsellerden herhangi birinin altına
yazılamaz?**

- A) Ölen bir canlının organik kısımlarının
toprak altında çürümesi
- B) Canlı kalıntısının hava ile temasının
tamamen kesilmesi
- C) Basınç altında uzun süre kalan canlı
kalıntısının taşlaşması
- D) Ekonomik değeri yüksek bir kayaç
olarak yeryüzüne çıkarılması

9. Görselde bir lunapark treninin yolu bu-
lunmaktadır. Trenin başlangıç noktası A
noktasından da önce olup hareket halinde
A noktasından yoluna devam edecektir.



**Buna göre A noktasından D noktasına
varan trenin yaptığı hareket ile ilgili
aşağıdakilerden hangisi doğrudur?**

	A-B Arası	B-C Arası	C-D arası	D'yi geçince
A)	Yavaşlar	Hızı değişmez	Yavaşlar	Hızı değişmez
B)	Yavaşlar	Hızlanır	Yavaşlar	Hızlanır
C)	Hızlanır	Yavaşlar	Hızı değişmez	Hızlanır
D)	Hızlanır	Hızlanır	Yavaşlar	Hızlanır

- 10.** Ferromanyetik adı verilen metallere meydana gelmiştir. Bu ferromanyetik metaller nikel ve demir gibi metallerdir. Bunların özelliği sürekli bir manyetizma oluşturup bazı maddeleri çekebilen çok iyi bir çekim etkisi meydana getirmesidir.

Metinde anlatılan madde aşağıdakilerden hangisini çekmez?

- A) Nikel
B) Demir
C) Alüminyum
D) Kobalt

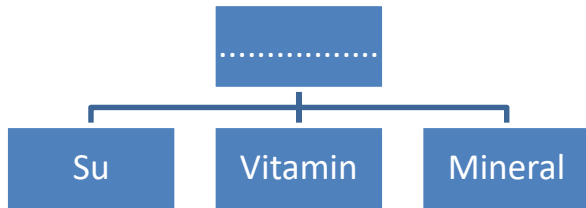
11.



Yukarıdaki görseli gördüğünüz bir alanda aşağıdakilerden hangisinin yapılması yasaklanmıştır?

- A) Çimlere basılması
B) Sigara içilmesi
C) Ağaç kesilmesi
D) Çöp atılması

12.



İçeriğine göre sınıflandırıldığında yukarıdaki tabloda belirtilen besin türlerinin vücuttaki görevi aşağıdakilerden hangisidir?

- A) Düzenleyici
B) Yapıcı
C) Onarıcı
D) Enerji verici

- 13.** Dengeli ve sağlıklı beslenmeye dikkat eden bir kimse için aşağıdakilerden hangisi doğrudur?

- A) Dondurulmuş gıdaları daha çok tüketmelidir.
B) Karbonhidrat tüketimini öğünlerinden tamamen çıkarmalıdır.
C) Yemek pişirme yöntemlerinden kızartmayı daha çok tercih etmelidir.
D) Katkı maddesiz ürünleri tüketmeye öncelik vermelidir.

- 14.** Kötü beslenme alışkanlıkları ile ortaya çıkan, sağlıksız beslenme sonucu gelişen ve günümüzde hastalık olarak kabul edilen durumdur. Bir kimsenin hastalık derecesinde şişmanlaması olarak tanımlanabilir.

Hakkında bilgi verilen durum aşağıdakilerden hangisidir?

- A) Obezite
B) Asosyalite
C) Obsesif
D) Depresyon

- 15.** I. Üzerine gelen topu kalecinin kucağında durdurması
II. Oyun hamurundan oyuncak at yapılması
III. Teneke kutunun eğilip bükülmesi
IV. Kırmızı ışıkta bekleyen arabadaki sürecünün gaza basıp aracı ilerletmesi

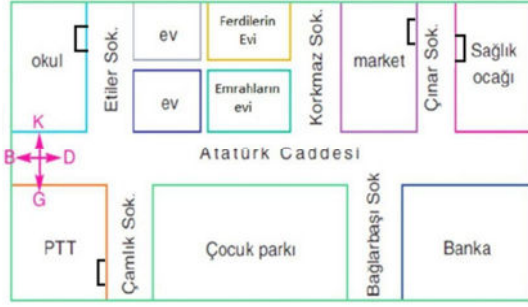
Verilenlerden hangisi kuvvetin şekil değiştirici özelliğine örnektir?

- A) Yalnız II
B) I ve IV
C) II ve III
D) I, II ve III

Fen Bilimleri testi sona ermiştir. Lütfen Diğer Teste Geçiniz.

Cevap Formunuzda Cevaplarınızı Bir Sonraki Bölüme Kodlayınız.

1.



PTT'nin kapısının önünden markete gitmek isteyen bir kimse önce Çamlık sokağından Atatürk Caddesine çıkar. Cadde boyunca ilerleyip Çınar Sokağına döner ve marketin kapısına ulaşır.

Buna göre bu kimse sırasıyla aşağıdaki hangi yönlerle doğru yürümüştür?

- A) Kuzey – doğu – güney
- B) Güney – batı – doğu
- C) Güney – doğu – kuzey
- D) Kuzey – doğu – kuzey

2. Kamil: Ben bir Konyaspor taraftarıyım, derslerimi ve görevlerimi aksatmamak koşuluyla her hafta takımımın maçlarını izlemek çok keyifli.

Recep: Ben bir kaleli yakan top oyuncusuyum. Genelde kalede oynarım çünkü arkadaşlarım kollarımın çok güçlü olduğunu ve bu sayede rakiplerimi rahatlıkla vura bildiğimi söylüyorlar.

Burhan: Oyun oynamak hepimizin hakkıdır. Sosyalleşmek, arkadaşlarımızla bağlarımızı kuvvetlendirmek için oyun oynamak gereklidir.

Yukarıda üç öğrencinin verdiği bilgilere göre kendileriyle ilgili belirttikleri ifadelerin "ilgi", "ihtiyaç" ve "yetenek" yönünden doğru eşleştirmesi aşağıdakilerin hangisidir?

	Kamil	Recep	Burhan
A)	Yetenek	İhtiyaç	İlgi
B)	İlgi	Yetenek	İhtiyaç
C)	İhtiyaç	İlgi	Yetenek
D)	İlgi	İhtiyaç	Yetenek

3.



Haritada verilen bölgede Kurtuluş Savaşımızda aşağıdaki kahramanlardan hangisi bulunmamıştır?

- A) Ali Saip Bey
- B) Şahin Bey
- C) Nene Hatun
- D) Tayyar Rahmiye Hanım

4. Bir grup insan, savaşlarda ölen çocuklar için sosyal medyada bir kampanya başlattılar. Herkese şu soruyu soruyorlardı: "Ya kaybedilen çocuklar sizin çocuklarınız olsaydı! Savaşı durdurun!"

Bu grubun sorduğu soru aşağıdaki hangi kavramı örneklendirmektedir?

- A) Empati
- B) Ön yargı
- C) Güven
- D) Özgürlük

5. Kültürümüze ait öğeler ve özellikler geçmişimizle bugünümüzü birbirine bağlar. Bunlar ayrıca bizi millet olarak diğer milletlerden ayıran öge ve özelliklerdir. Maddi ve manevi olarak ikiye ayrılabilirler. Maddi öğeler elle tutulup gözle görülen bir eşya ve eser olabilirken manevi özellikler ise toplum içinde süregelen gelenek ve göreneklerdir.

Buna göre aşağıdakilerden hangisi maddi veya manevi kültür özelliği olma açısından diğerlerinden farklıdır?

- A) Süleymaniye Camii
- B) İnce Minareli Medrese
- C) Aşure günü
- D) Safranbolu Evleri

6.



Haritada İstanbul'dan kalkıp Rize'ye inecek olan bir uçak gösterilmektedir.

Buna göre uçağın rotası ile ilgili aşağıdakilerden hangisi doğrudur?

- A) Doğu-batı
- B) Batı-doğu
- C) Kuzey-güney
- D) Güney-kuzey

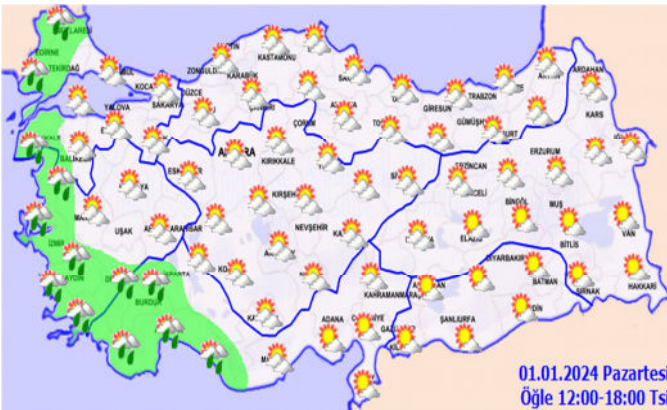
7. Bir kurs başvurusu yapacak adaylardan kısa bir bilgi formu doldurmaları istenmiştir. Bu formda yer alan sorulardan bazıları şöyledir:

1. Adınız soyadınız nedir?
2. Doğum yılınız nedir?
3. Cinsiyetiniz nedir?
4. İlgi alanlarınız nelerdir?
5. Özel yetenekleriniz nelerdir?

Formdaki sorulardan hangi numaralı olanlarının cevapları kimlik kartında yer almaktadır?

- A) 1 - 2 - 3
- B) 2 - 3 - 5
- C) 1 - 2 - 4 - 5
- D) 1 - 4 - 5

8.



Görseldeki haritaya göre aşağıdakilerden hangisi doğrudur?

- A) Tüm bölgelerde fırtına olacaktır.
- B) Kuzey bölgelerde kar beklenmektedir.
- C) Güneş kısmen de olsa hiç görülmeyecektir.
- D) Yurdun batısı yağmurludur.

9.

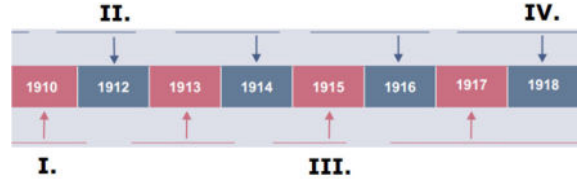


Ülkemizin yukarıdaki fiziki haritasında işaretlenen iki bölge de ovardır. Konya Ovası sarı renkle gösterilirken Trakya topraklarımızda bulunan Ergene Ovası yeşil renkle gösterilmiştir.

İki ovanın gösterimi arasındaki fark aşağıdakilerden hangisidir?

- A) Yükselti farkı
- B) Sulanma durumu
- C) Ormanlık alan olup olmaması
- D) Yağış miktarı

10. Osmanlı Devleti, I. Dünya Savaşı sırasında özellikle Çanakkale Savaşlarında büyük fedakârlıklar göstermiş, vatan savunması için pek çok şehit vermiştir. Tarihe "Çanakkale geçilmez" sözü bu dönemdeki kahramanlıklar sayesinde yazılmıştır.



Metinde geçen olayın gerçekleşme yılı yukarıdaki tarih şeridinde hangi rakamla ifade edilmiştir?

- A) I.
- B) II.
- C) III.
- D) IV.

Sosyal Bilgiler testi sona ermiştir. Lütfen Diğer Teste Geçiniz.

Cevap Formunuzda Cevaplarınızı Bir Sonraki Bölüme Kodlayınız.

1. Kur'an-ı Kerim'de Araf suresinde 157. ayette Allah, temiz olan şeylerin yenilip içilmesinin yasak olmadığını söylemiştir. Devamında pis olarak nitelendirdiği şeylerin ise dinen kesin olarak yasaklandığını belirtmiştir.

Buna göre dinin kesin olarak yasaklaması ifadesinin karşılığı olan kavram aşağıdakilerden hangisidir?

- A) Fesat
B) Mekruh
C) Haram
D) Günah

2. Peygamberimiz bir hadisinde yemeğe başlarken besmele çekilmesini istemiştir. Devamında şöyle söylemiştir: "Eğer yemeğin başında besmeleyi unutursanız evveli için de sonu için de bismillah, deyin." buyurmuştur.

Peygamberimizin yemekle ilgili bu hadisteki tavsiyesine uyan bir kimse için aşağıdakilerden hangisi söylenir?

- A) Allah'ın en yüce olduğunu belirterek başlamıştır.
B) Allah'ın adını anmayı ihmal etmemiştir.
C) Allah'a hamd ederek yemeğe başlamıştır.
D) Allah'ın rızık verdiğini söyleyerek yemeğini yemiştir.

3. Günlük yaşamda Allah'ın adını sıkça söyleriz. Özellikle karşılaştığımız bazı durumlarda söylediğimiz dua cümleleri içinde Allah'ın adı sıkça geçer. Örneğin bir arkadaşımız sınava girerken veya zor bir iş yapan kimsenin işinin kolaylaşmasını dileyeceğimizde bu duaları ederiz. Yine birisinden bir iyilik gördüğümüzde de Allah'ın onu sevmesini dilemek için dua ederiz.

Metinde geçen durumlardan birinde aşağıdakilerden hangisi söylenmez?

- A) Allah razı olsun!
B) Allah yardımcın olsun!
C) Allah bilir!
D) Allah zihin açıklığı versin!

4.



"Ey Rabbimiz! Sana tertemiz duygularla, eksilmeyip artan, huzurundan geri çevrilmeyip kabul edilen sayısız hamd ile hamd ederiz."

Yukarıdaki yemek duasının anlamına göre bu dua aşağıdakilerden hangisi ile başlamış olmalıdır?

- A) Allahu Ekber kebira
B) Elhamdu lillahi hamden kesiran
C) Sallallahu aleyhi ve sellem
D) La ilahe illallah

5. Bizi yaratan ve yaşatan, yarattıklarına rızık veren ve yaşamlarını devam ettiren Allah'tır. O, verdiği nimetler için bizden yalnızca kendisine şükretmemizi istemiştir. Şükür, "Allah'ım! Sana şükürler olsun! Verdiğin nimetler için sana hamd olsun!" şeklinde sözlerle yapılabilir. Ancak bu şükürün dil ile söylenmesidir. İnsanın şükürü yalnızca dil ile yapmaması gerekir. Aynı zamanda Allah'ın emir ve yasaklarına uyarak O'nun istediği gibi bir yaşam sürmek de şükürün gereğidir.

Bu metinde aşağıdakilerden hangisi anlatılmaktadır?

- A) Kişinin hem söz ve hem de davranışları dine uygun olmalıdır.
B) Şükürün nasıl yapılacağı kişiye göre değişir.
C) Ahlak sahibi olmak demek güzel davranışları gizlemek demektir.
D) Verilen nimetlerle yetinmeyi bilip fazlası için dua etmekten kaçınmak gerekir.

6.



Temel anlamı "Allah'ın dilediği olur" şeklindedir. Ancak örneğin görseldeki öğrencinin güzel bir iş yapması hakkında "Allah nazardan korusun" ve yaptığı güzel iş devam etsin anlamında da kullanılır.

Metinde anlatılan dini ifade aşağıdakilerden hangisidir?

- A) İnşallah
- B) Maşallah
- C) Subhanallah
- D) Bismillah

7. Müslüman olmanın en temel şartı kişide Allah inancının olmasıdır. Allah inancı tanımlanırken de ilk olarak onun bir olduğu, eşi ve benzerinin bulunmadığına inanmak şeklinde tanımlanabilir. Bu tanım İslam'ın en temel ilkesini anlatmaktadır.

Bu ilkeye verilen ad aşağıdakilerden hangisidir?


- A) Tevhid
- B) Tekbir
- C) Takdir
- D) İstiğfar

8. Kur'an'ın her beş sayfasına, Kur'an'ın her yirmi sayfasına, Kur'an'ın baştan sona okunmasına denir.

Boş bırakılan yerlerden birine aşağıdakilerden hangisi yazılamaz?

- A) Hatim
- B) Hizb
- C) Cüz
- D) Ayet

9. Mehmet, namaz sonrası Allah'a dua edecektir. Yaptığı duada istek bildiren bir cümle söylemiştir.



Buna göre noktalı yere aşağıdakilerden hangisi doğrudan yazılmaz?

- A) "Allah'ım! Beni, anne-babamı ve tüm Müslümanları koru."
- B) "Ey Rabbim! Derslerimde başarı ver."
- C) "Allah, her şeyi görür, işitir ve bilir."
- D) "Ya Rabbi! İnsanların birbirine zarar vermelerine izin verme."

10.



Görselde bir namaz sonrası tesbeih çekmiş ve ardından dua eden bir kimse gösterilmektedir. Bu kimse duasına "Allah'tan af ve bağışlama isterim." anlamına gelen bir ifade ile başlamıştır.

Buna göre bu kimsenin bu duasının başlangıcı aşağıdakilerden hangisidir?

- A) Bismillah
- B) Elhamdulillah
- C) Subhanallah
- D) Estağfirullah

Din Kültürü ve Ahlak Bilgisi testi sona ermiştir. Lütfen Diğer Teste Geçiniz.

Cevap Formunuzda Cevaplarınızı Bir Sonraki Bölüme Kodlayınız.

1. Look at this map.



Brad:

Cem: It's in the north.

Diyalogda verilen cevaba göre boşluğa aşağıdakilerden hangisi getirilmelidir?

- A) Where is Konya?
- B) Where is Samsun?
- C) Where is İzmir?
- D) Where is Van?

2. Look at the picture.



Choose the correct sentence.

- A) Can I come into the class?
- B) Can I take my pencil?
- C) Can I answer the question?
- D) Can I open the door?

3. **Gary:** Look at the watch! The break time is over.

Sally: Let's go to the class.


Diyalog aşağıdaki konulardan hangisini anlatmaktadır?

- A) Okulda teneffüs saatinin bitmesi
- B) Akşam eve dönüş için yola çıkılması
- C) Tatil için hazırlık yapılması
- D) Sevilen bir oyunun başlatılması

4. **Sementha:** What do you do in your free time?

Martha: I like playing chess.

According to the dialogue, who is Martha?



5. **Aimi:**

Jason: No, I am not. I'm British.

Diyalogda verilen cevaba göre boşluğa aşağıdakilerden hangisi getirilmelidir?

- A) What is your name?
- B) Is your country Britain?
- C) What's your favorite country?
- D) Are you American?

Sınav sona ermiştir. Cevaplarınızı kontrol etmeyi unutmayınız.

